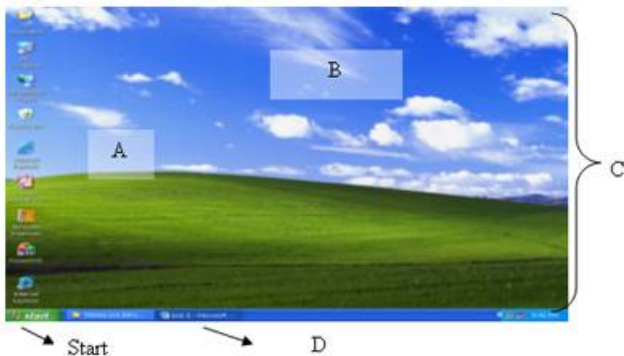


## Kelas 7 Semester I

1. Perangkat komputer terhubung ke sumber listrik PLN setelah melalui stabilizer, untuk mengaktifkan komputer dengan urutan yang benar yaitu hidupkan ...
  - A. stabilizer, CPU lalu monitor
  - B. CPU, stabilizer lalu monitor
  - C. stabilizer, monitor lalu CPU
  - D. monitor, CPU lalu stabilizer
2. Perintah penempatan file ke tempat baru adalah ...
  - A. cut
  - B. paste
  - C. save
  - D. save as
3. Cara menggunakan hak cipta orang lain yang tidak melanggar hak cipta yaitu ...
  - A. dijual/komersil
  - B. tidak untuk pribadi
  - C. sumber dicantumkan
  - D. merugikan yang mencipta
4. Perhatikan gambar di bawah ini. C adalah ...



- A. wallpaper
  - B. desktop
  - C. taskbar
  - D. icon
5. Perangkat komputer terhubung ke sumber listrik PLN setelah melalui stabilizer lalu ke perangkat yang lain, hubungan perangkat yang benar yaitu ...
    - A. CPU terhubung ke monitor
    - B. keyboard terhubung ke printer
    - C. stabilizer terhubung ke mouse
    - D. printer terhubung ke monitor
  6. Urutan munculnya menu start pada tampilan monitor yaitu ...
    - A. hidupkan monitor, stabilizer, CPU lalu tunggu muncul menu start
    - B. hidupkan CPU, monitor, stabilizer lalu tunggu muncul menu start
    - C. hidupkan stabilizer, monitor, CPU lalu tunggu muncul menu start
    - D. hidupkan stabilizer, CPU, monitor lalu tunggu muncul menu start
  7. Pada tampilan desktop/start menu untuk masuk ke Display Properties yang dilakukan klik kanan mouse lalu pilih ...
    - A. arrange icons by
    - B. new
    - C. refresh
    - D. properties
  8. Media penyimpanan yang terdapat pada CPU adalah ...
    - A. disket
    - B. harddisk
    - C. CD
    - D. flash disk

9. Media penyimpanan pada gambar adalah ...



- A. disket
- B. harddisk
- C. CD
- D. flash disk

10. Pada gambar dibawah komponen komputer yang bernama monitor adalah ...



- A. a
- B. b
- C. c
- D. d

11. Pada gambar, posisi duduk yang tidak benar adalah ...



- A. duduk tegak bersandar
- B. pandangan lurus ke depan
- C. kaki lurus ke depan
- D. tangan tidak di atas meja

12. Perhatikan gambar:







Komponen komputer yang berfungsi untuk memproses data ... .

- A. a
- B. b
- C. c
- D. d

13. Posisi jarak pandang ke monitor yang benar adalah ...







- A. 20 cm
  - B. < 30 cm
  - C. 30 - 50 cm
  - D. > 50 cm
14. Mouse terhubung pada ...
- A. listrik PLN
  - B. printer
  - C. monitor
  - D. CPU
15. Media penyimpanan yang bahannya terbuat dari resin (polycarbonate) adalah ...
- A. disket
  - B. RAM
  - C. CD-ROM
  - D. flash disk
16. Sebelum ditampilkan di monitor, data diolah pada ...
- A. keyboard
  - B. printer
  - C. monitor
  - D. CPU
17. Kelebihan GUI (Graphical User Interface) adalah ...
- A. sulit pengendalian perintah
  - B. pengaktifan dari symbol grafis berukuran besar
  - C. pekerjaan jadi sulit
  - D. mempermudah pekerjaan
18. Pada saat tampilan desktop; yang bukan langkah mengganti nama folder adalah ...
- A. buka My Documents
  - B. pilih delete
  - C. klik kanan
  - D. pilih rename
19. Cara yang benar menghargai hasil karya orang lain yaitu ...
- A. menggunakan bajakannya
  - B. tidak men-copy tanpa izin
  - C. mengedarkan secara tidak sah
  - D. membeli hasil bajakan
20. Disket sebaiknya disimpan di tempat ...
- A. panas
  - B. dingin
  - C. lembab
  - D. tertutup
21. Fungsi dari fasilitas cut/move adalah ...
- A. membuat file/folder

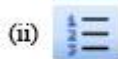
- B. menghapus file/folder  
 C. mengganti nama file/folder  
 D. memindahkan file/folder
22. Pada UU No.19. Tahun 2002 Pasal 72: Barangsiapa dengan sengaja menyiarkan, memamerkan, mengedarkan, atau menjual kepada umum suatu Ciptaan atau barang hasil pelanggaran Hak Cipta atau Hak Terkait sebagaimana dimaksud pada ayat (1) dipidana dengan pidana penjara paling lama 5 (lima) tahun dan/atau denda paling banyak...
- A. Rp. 500.000.000,00  
 B. Rp. 300.000.000,00  
 C. Rp. 400.000.000,00  
 D. Rp. 200.000.000,00
23. Simbol icon dari program pengolah kata adalah ....
- a. 
- b. 
- c. 
- d. 
- A. a  
 B. b  
 C. c  
 D. d
24. Pada Microsoft nama program pengolah kata ialah ...
- A. Excel  
 B. Access  
 C. Word  
 D. Power Point
25. Hasil karya yang tidak dilindungi oleh Undang-Undang Hak Cipta yaitu ...
- A. program komputer  
 B. sinematografi  
 C. peta  
 D. merangkum sebuah buku
26. Tegangan listrik yang sangat tinggi terdapat pada bagian belakang ...
- A. keyboard  
 B. printer  
 C. monitor  
 D. CPU
27. Media penyimpanan elektronik ialah ...
- A. disket  
 B. harddisk  
 C. CD  
 D. flash disk
28. Komponen komputer yang berfungsi untuk menampilkan data ...
- A. keyboard  
 B. printer  
 C. monitor  
 D. CPU
29. Media penyimpanan yang dapat menyimpan sampai 1,44 MB adalah ...
- A. disket  
 B. harddisk  
 C. CD  
 D. flash disk
30. Sebelum memilih Microsoft Excel, langkah dari tampilan desktop adalah klik start, pilih All Program, lalu pilih ...
- A. Windows Messenger

- B. Windows Media Player
- C. Microsoft Office
- D. Windows Movie Media

## Kelas 7 Semester 2

1. Berikut ini langkah-langkah yang tidak benar untuk menjalankan program Microsoft Word 2003 adalah ...
  - A. klik Start, klik All Program, klik Microsoft Word
  - B. klik Start, klik Program, klik Microsoft Word
  - C. klik Start, klik Microsoft Word
  - D. klik Start, klik Program
2. Pada kotak pilihan Line Spacing pada sub menu Paragraph, yang termasuk jarak spasi minimal adalah ...
  - A. At least
  - B. Single
  - C. 1.5 line
  - D. Double
3. Untuk mencetak halaman lembar kerja yang sedang aktif saja pada submenu Print kita dapat memilih ...
  - A. All
  - B. Pages
  - C. Current page
  - D. benar semua
4. Untuk mengatur dan menentukan arah pencetakan halaman dengan arah tegak/berdiri dapat memilih ...
  - A. Gutter
  - B. Mirror Margin
  - C. Landscape
  - D. Portrait
5. Mengaktifkan submenu Table dengan menggunakan menu bar adalah ...
  - A. Klik menu Tools, klik sub menu Insert, pilih dan klik Table
  - B. Klik menu Table, klik sub menu Select, pilih dan klik Table
  - C. Klik menu Format, klik sub menu Insert, pilih dan klik Table
  - D. Klik menu Table, klik sub menu Insert, pilih dan klik Table
6. Fasilitas Word Art terdapat pada toolbar ...
  - A. Standard
  - B. Formatting
  - C. Drawing
  - D. Mail Merge
7. Yang merupakan hasil dari pengolahan program Microsoft Word adalah ...
  - A. Database
  - B. Presentasi
  - C. Brosur
  - D. Program penggajian
8. Langkah mengaktifkan sub menu penjumlahan dengan menggunakan menu bar adalah ...
  - A. Klik menu Table, klik submenu Insert
  - B. Klik menu Table, klik submenu Delete
  - C. Klik menu Table, klik submenu Select
  - D. Klik menu Table, klik submenu Formula
9. Yang merupakan gambar icon Word Art adalah ...
  - (i) 
  - (ii) 
  - (iii) 
  - (iv) 
  - A. (i)
  - B. (ii)
  - C. (iii)
  - D. (iv)

10. Yang termasuk ikon Paragraph adalah ...



- A. (i)
- B. (ii)
- C. (iii)
- D. (iv)

11. Pada sub menu Indents and Spacing yang terdapat pada menu Paragraph, Line Spacing berfungsi untuk ...

- A. Menentukan pengaturan jenis perataan teks
- B. Menentukan indentasi paragraf dari batas kanan halaman
- C. Menentukan spasi dari teks
- D. Mengatur spasi sebelum baris (teks) yang sekarang

12. Yang termasuk icon Undo adalah ...



- A. (i)
- B. (ii)
- C. (iii)
- D. (iv)


13. Pertemuan antara baris dan kolom dalam sebuah tabel disebut ...

- A. sel
- B. kolom
- C. baris
- D. range

14. Pada kotak dialog Replace, Find Next berfungsi untuk ...

- A. Mengganti kata yang telah ditemukan
- B. Mengganti seluruh kata yang telah ditemukan
- C. Meneruskan pencarian
- D. Mengakhiri pencarian dan penggantian kata

15. Yang termasuk icon Save adalah ...



- A. (i)
- B. (ii)
- C. (iii)
- D. (iv)

16. Perhatikan pernyataan di bawah ini !

- 1. Klik tombol save atau enter untuk menyimpannya
- 2. Pada tombol daftar pilihan Save in, pilih dan klik drive atau folder yang diinginkan untuk menyimpan dokumen

3. Pilih dan klik menu File, kemudian klik save
4. Pada kotak isian File Name, ketikkan nama file yang diinginkan

Dari pernyataan di atas susunan cara menyimpan dokumen sesuai dengan prosedur adalah...

- A. 1 - 2 - 3 - 4
  - B. 2 - 3 - 4 - 1
  - C. 3 - 4 - 1 - 2
  - D. 3 - 2 - 4 - 1
17. Mengaktifkan submenu Print dengan menggunakan tombol kombinasi keyboard adalah ...
- A. Ctrl + O
  - B. Ctrl + N
  - C. Ctrl + P
  - D. Ctrl + S
18. Langkah mengatur lebar kolom sebuah tabel dengan menggunakan menu bar adalah ...
- A. Klik menu Table, klik submenu Table Properties, klik sub menu Table
  - B. Klik menu Table, klik submenu Table Properties, klik sub menu Column
  - C. Klik menu Table, klik submenu Table Properties, klik sub menu Row
  - D. Salah semua
19. Cara membuka dokumen baru Microsoft Word menggunakan Menu Bar adalah ....
- A. Klik Edit, kemudian klik New
  - B. Klik View, kemudian klik New
  - C. Klik File, kemudian klik New
  - D. Klik File, kemudian klik Open

20. Yang termasuk icon Undo adalah ...



- A. (i)
  - B. (ii)
  - C. (iii)
  - D. (iv)
21. Berikut ini adalah fungsi dari program Microsoft Word adalah ...
- A. Pengolah angka
  - B. Pengolah angka dan kata
  - C. Pengolah kata
  - D. Pengolah database

22. Icon untuk membuat anak panah dalam lembar kerja adalah ....



- A. (i)
  - B. (ii)
  - C. (iii)
  - D. (iv)
23. Mengaktifkan sub menu Go to dengan menggunakan tombol kombinasi keyboard adalah ...
- A. Ctrl + F
  - B. Ctrl + H
  - C. Ctrl + G
  - D. Salah semua

24. Yang merupakan simbol ikon dari program Microsoft Word adalah ...



- A. (i)
- B. (ii)
- C. (iii)
- D. (iv)

25. Gambar berikut ini dibuat dengan menggunakan fasilitas ...



- A. Autoshapes
- B. Picture
- C. Clip Art
- D. Word Art

26. Gambar icon di bawah ini berfungsi untuk ...



- A. Membuat tulisan artistik
- B. Menyisipkan gambar
- C. Membuat tabel
- D. Membuat tulisan berbentuk koran

27. Simbol yang tidak termasuk ke dalam menu editing adalah ...

- A. Undo
- B. Redo
- C. Cut
- D. Open

28. Fasilitas sederhana yang berisi untuk menggambar suatu objek, terdapat juga WordArt, Clip Art, Teks Box dan lain-lain merupakan kemampuan yang dimiliki oleh ...

- A. Toolbar Standard
- B. Toolbar Drawing
- C. Toolbar Formatting
- D. Toolbar Mail Merge

29. Fungsi dari toolbar formatting adalah ...

- A. Untuk menggambar
- B. Untuk memformat teks
- C. Untuk mencetak dokumen
- D. Untuk menyimpan dokumen

30. Extension dari Microsoft Word adalah ...

- A. XLS
- B. MDB
- C. DOC
- D. PPT

## Kelas 8 Semester 1

1.



Gambar ini adalah Icon ... .





- A. Microsoft Office
- B. Microsoft Excel
- C. Microsoft Word
- D. Microsoft PowerPoint

2. Pada setiap lembar kerja Microsoft Excel terdiri dari ..... kolom (column).

- A. 256
- B. 257
- C. 258
- D. 259

3.

Icon menentukan desimal adalah ... .

- a. 
- b. 
- c. 
- d. 

- A. a
- B. b
- C. c
- D. d

4. Range adalah ... yang diblok.

- A. huruf
- B. sel
- C. angka
- D. pointer

5. Nilai tertinggi dicari dengan fungsi ...

- A. SUM
- B. MAX
- C. AVERAGE
- D. MIN

6. Perintah untuk menyalin (copy) terdapat di dalam menu ...





- A. File
- B. View
- C. Edit
- D. Next

7. Rumus formula perkalian dengan lambang ... .





- A. +
- B. -
- C. \*
- D. ^

8.

Tulisan *JAKARTA* , adalah bentuk huruf yang dihasilkan setelah klik ... .

- a. 
- b. 
- c. 
- d. 

- A. a
- B. b
- C. c

- D. d
9. Perintah Print terdapat dalam menu ... .  
A. File  
B. Edit  
C. View  
D. Format
10. Baris dalam Microsoft Excel tertulis dalam bentuk ... .  
A. angka  
B. huruf dan angka  
C. huruf  
D. tanda baca
11. Kolom tertulis dalam bentuk ... .  
A. angka  
B. huruf dan angka  
C. huruf  
D. tanda baca
12. Pada pengaturan pencetakan lembar kerja, tab Margin Bottom berfungsi untuk ...  
A. mengatur persentase pencetakan  
B. mengatur posisi cetak  
C. mengatur jenis kertas  
D. mengatur kualitas pencetakan
13. Hasil yang akan dicetak dapat dilihat dahulu dengan klik icon ... .  
a.   
b.   
c.   
d.   
A. a  
B. b  
C. c  
D. d
14. Bentuk tampilan dengan kertas horizontal/mendatar adalah ... .  
A. Portrait  
B. Landscape  
C. printer  
D. print out
15. Sebelum memilih Microsoft Excel, langkah dari tampilan desktop adalah klik start, pilih All Program, lalu pilih ... .  
A. Windows Messenger  
B. Microsoft Office  
C. Windows Media Player  
D. Windows Movie Media
16. Langkah melakukan penyimpanan berkas yaitu : File, lalu ... dilanjutkan memilih media penyimpanan dan menulis nama berkas.  
A. New  
B. Open  
C. Close  
D. Save As
17. Menyalin data dengan perintah pada keyboard yaitu ... .  
A. Ctrl+O  
B. Ctrl+P  
C. Ctrl+N  
D. Ctrl+C
18. Membuat tabel pembukuan/keuangan dapat dilakukan oleh ... .  
A. Microsoft Office

- B. Microsoft Power Point
- C. Microsoft Word
- D. Microsoft Excel

19. Perintah membuat garis tabel ada dalam menu ... .





- A. Edit
- B. View
- C. Format
- D. Tools

20.

Perhatikan gambar Toolbar Standar ini.



Icon mencetak adalah ... .

- a. 
- b. 
- c. 
- d. 

- A. a
- B. b
- C. c
- D. d

21. Pengertian dari C13 dalam lembar kerja adalah ...

- A. pertemuan antara kolom C dengan baris 13
- B. pertemuan antara kolom C dengan baris C
- C. pertemuan antara kolom 13 dengan baris 13
- D. pertemuan antara kolom 13 dengan baris C

22. Setelah menu File, lalu pilih New untuk ... .

- A. menyimpan buku kerja
- B. membuka buku kerja baru
- C. mencetak buku kerja
- D. menghapus buku kerja

23. Perintah mengubah tinggi baris yaitu : Format, lalu pilih ... .

- A. Cells
- B. Row
- C. Column
- D. Sheet

24. Pada Format Cells, penentuan desimal dan mata uang yang dipilih adalah ... .

- A. General
- B. Number
- C. Currency
- D. Accounting

25. Fungsi untuk mencari nilai terendah digunakan yaitu ....

- A. SUM
- B. MAX
- C. AVERAGE
- D. MIN

26.

Icon  adalah untuk ... .

- A. menyimpan buku kerja
- B. membuka buku kerja
- C. mencetak buku kerja
- D. menghapus buku kerja

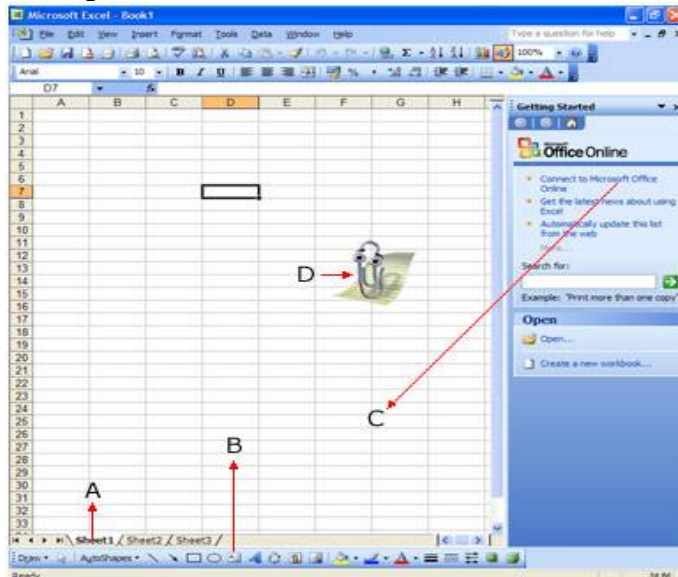
27. Fungsi untuk mencari nilai rata-rata yaitu ....

- A. SUM
- B. MAX
- C. AVERAGE
- D. MIN

28. Data pada baris dapat dihapus dengan perintah : pilih menu Edit, klik Delete, lalu pilih ... .

- A. Shift cells left
- B. Shift cells up
- C. Entire row
- D. Entire Column

29. Pada gambar di bawah Office Assistant adalah ... .



- A. A
- B. B
- C. C
- D. D

30. Perintah mengubah bentuk huruf yaitu : Format, Cells lalu pilih ... .

- A. Number
- B. Alignment
- C. Font
- D. Border

## Kelas 8 Semester 2

1. Icon di bawah ini berfungsi untuk ....



- A. membuat tulisan artistik
- B. menyisipkan objek gambar
- C. membuat tabel
- D. membuat tulisan berbentuk koran

2. Jika ingin menampilkan data siswa yang mempunyai NIS 3721 kita dapat melakukan pemilihannya dengan langkah ....

	A	B	C	D	E
	No.	Nomor Induk	Nama	L/P	KOTA LAHIR
1					
2	1	3633	Abdul Hakim	L	Jakarta
3	2	3675	Achda Maulidah	P	Jakarta
4	3	3881	Achmad Sofian	L	Bandung
5	4	3844	Agus Satria	L	Jakarta
6	5	3717	Ahmad Dedy Kasih	L	Bandung
7	6	3802	Ahmad Ridwan	L	Jakarta
8	7	3721	Anggun Astrini	P	Jakarta
9	8	3261	Arif Rahman	L	Jakarta
10	9	3680	Balinda Agustin	P	Kediri
11	10	3936	Chairani	P	Jakarta
12	11	3311	Denis	L	Kediri
13					

- A. pilih filed NIS, klik 3802 pada kotak pilihan
  - B. pilih filed NIS, klik 3675 pada kotak pilihan
  - C. pilih filed NIS, klik 3311 pada kotak pilihan
  - D. pilih filed NIS, klik 3721 pada kotak pilihan
3. Di dalam sebuah database setiap kolom mempunyai judul kolom yang disebut ....
- A. filed
  - B. range
  - C. record
  - D. database
4. Pada tab Object, Create New berfungsi untuk ....
- A. memilih type object yang dipilih untuk disisipkan
  - B. mencari nama file untuk disisipkan
  - C. memilih gambar untuk disisipkan
  - D. memilih grafik untuk disisipkan
5. Perhatikan soal berikut !

**Icon**  berfungsi untuk ....

- A. menambahkan objek gambar variasi teks
  - B. menyisipkan gambar
  - C. membuat tabel
  - D. membuat tulisan berbentuk koran
6. Untuk menyimpan dokumen kita dapat mempergunakan icon .....
- A. Open
  - B. New
  - C. Print
  - D. Save

7. Di bawah ini icon yang digunakan untuk mencetak dokumen adalah ....



- A. a
- B. b
- C. c
- D. d

8. Pada kotak dialog Create New, apabila kita ingin menyisipkan lembar kerja kepada buku kerja kita dapat memilih ....

- A. Microsoft Word Document
- B. Microsoft Excel Chart
- C. Microsoft Excel Worksheet
- D. Microsoft PowerPoint Presentation

9. Kumpulan dari range yang berisikan data yang disusun berdasarkan kolom dan baris, serta setiap kolom mengandung data sejenis disebut ....

- A. kolom
- B. range
- C. baris
- D. database

10. Pengurutan data tabel baik secara ascending atau secara descending terdapat pada fasilitas....

- A. Toolbar Standard
- B. Toolbar Drawing
- C. Toolbar Formatting
- D. Toolbar Mail Merge

11. Gambar berikut ini merupakan bentuk dari jenis grafik ....



- A. Column
- B. Bar
- C. Line
- D. Cylinder

12. Sebuah informasi tentang suatu acara untuk mengharapkan kehadiran seseorang pada sebuah kegiatan disebut ....

- A. brosur
- B. leaflet
- C. undangan
- D. buletin

13. Sub menu yang dipergunakan untuk menyimpan lembar kerja adalah ....

- A. New
- B. Open
- C. Print
- D. Save As dan Save

14. Jika kita ingin mengurutkan data dan hasil pengurutannya secara menurun dari yang terbesar ke yang terkecil kita dapat menggunakan tanda ....

- A. no header row
- B. descending
- C. header row
- D. ascending

15. Leaflet merupakan ....
  - A. sebuah publikasi tertulis tentang suatu masalah disusun secara sistematis
  - B. sebuah publikasi cetak untuk informasi khalayak umum
  - C. sebuah publikasi berupa selebaran atau majalah berisi warta singkat terbit secara periodik
  - D. sebuah publikasi yang dibuat dengan nilai seni
16. Mempergunakan menu AutoFilter dengan menu bar adalah ....
  - A. Data, Sort
  - B. Format, Cells
  - C. Insert, Columns
  - D. Data, Filter
17. Langkah mengaktifkan sub menu untuk menambahkan objek gambar variasi teks pada lembar kerja Ms. Excel dengan menggunakan menu bar adalah ....
  - A. klik menu Insert, klik submenu Picture, klik submenu Clip Art
  - B. klik menu Insert, klik submenu Picture, klik submenu Chart
  - C. klik menu Insert, klik submenu Picture, klik submenu WordArt
  - D. klik menu Insert, klik submenu Picture, klik submenu AutoShapes
18. Menu yang tersedia dalam kotak dialog Chart Wizard Step 1-4 Chart Type adalah ....
  - A. Standard Types dan Custom Types
  - B. Data Range dan Series
  - C. Legend
  - D. As new sheet dan As object in
19. Pada langkah pembuatan grafik yang paling terakhir, kita dapat menempatkan grafik pada lembar kerja data secara bersamaan atau berdampingan yaitu dengan memilih tombol pilihan ....
  - A. As new sheet
  - B. As object in
  - C. Category (X) axis
  - D. Value (Y) axis
20. Tampilan data numerik (baik angka murni atau hasil perhitungan) disajikan dalam bentuk gambar disebut ....
  - A. picture
  - B. tabel
  - C. chart
  - D. range
21. Menu yang dipergunakan untuk menyisipkan dokumen atau berkas dari Microsoft Word adalah ....
  - A. File, Print
  - B. Edit, Paste
  - C. Insert, Object
  - D. Insert, Simbol
22. Tabulasi untuk mengatur tampilan legend dari grafik adalah ....
  - A. Tab Axes
  - B. Tab Legend
  - C. Tab Gridlines
  - D. Tab Data Labels
23. Langkah untuk mengaktifkan fasilitas pembuatan grafik dengan menggunakan menu bar adalah ....
  - A. klik menu Insert, klik Chart
  - B. klik menu Insert, klik Row
  - C. klik menu Insert, klik Columns
  - D. klik menu Insert, klik Worksheet
24. Untuk menampilkan kembali seluruh tabel database setelah selesai melakukan pencarian data yaitu dengan menggunakan ....
  - A. AutoFilter
  - B. Advanced All
  - C. Show All
  - D. benar semua

25. Menu yang dipergunakan untuk menyaring database dengan menggunakan kriteria khusus ditentukan sesuai dengan yang kita inginkan sendiri adalah ....
- A. Custom AutoFilter
  - B. Custom Filter
  - C. Filter
  - D. AutoFilter

26. Icon yang dipergunakan untuk mengurutkan data dan hasil pengurutannya secara menaik dari yang terkecil yang terbesar adalah ....



- A. a
- B. b
- C. c
- D. d

27. Untuk menentukan jumlah nilai tertentu dalam mencetak data rangkap dapat mengisi pada ....

- A. Print Range
- B. Number of copies
- C. Print What
- D. Name

28. Untuk membuat garis, baik yang berujung panah atau tidak kita dapat memilih icon Lines yang ditandai dengan nomor ....



- A. 4
- B. 3
- C. 2
- D. 1

29. Menu untuk membuat sebuah database terdapat pada menu....

- A. Format
- B. Tools
- C. Insert
- D. Data

30. Icon untuk menyisipkan gambar dari file lain adalah ....



- A. a
- B. b
- C. c
- D. d

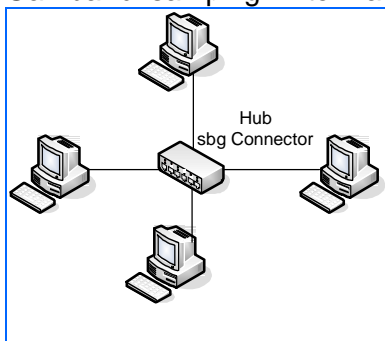
## Kelas 9 Semester I

1. Kelangsungan jaringan sangat tergantung pada server. Bila server mengalami gangguan maka secara keseluruhan jaringan akan terganggu. Pernyataan ini adalah kelemahan dari penggunaan komputer sebagai ....
  - A. server
  - B. workstations
  - C. client
  - D. benar semua
2. Pada sub menu New fungsi untuk menampilkan jendela Internet Explorer yang baru terdapat pada pilihan ....
  - A. Windows
  - B. Message
  - C. Post
  - D. Contact





3. Berikut ini adalah gambar modem jenis ....



- A. internal
  - B. eksternal
  - C. NIC
  - D. Ethernet
4. Jaringan yang dibatasi oleh area yang relatif kecil, umumnya dibatasi oleh area lingkungan seperti sebuah perkantoran di sebuah gedung, sebuah sekolah, biasanya tidak jauh dari sekitar 1 km persegi disebut ....
    - A. jaringan lokal
    - B. jaringan metropolitan
    - C. jaringan skala besar
    - D. benar semua
  5. Di bawah ini universitas besar di Amerika yang membentuk ARPAnet adalah ....
    - A. Stanford Research Institute
    - B. University of California at Santa Barbara
    - C. University of California at Los Angles
    - D. benar semua
  6. Gambar di samping ini termasuk jenis topologi jaringan ....



- A. Topologi STAR
  - B. Topologi Peer-to-peer Network
  - C. Topologi BUS
  - D. Topologi TokenRING
7. Berikut ini yang bukan keunggulan internet untuk mendukung perkembangan dunia pendidikan adalah ....
    - A. internet berisi tentang ilmu pengetahuan
    - B. internet mempunyai unsur mendidik
    - C. internet menyediakan game bagi siswa yang malas belajar

- D. internet menyediakan fasilitas pengetahuan yang baru
8. Sub menu New, Open, Save as terdapat pada Internet Explorer bagian menu ....
- View
  - Favorite
  - File
  - Edit
9. Berikut ini contoh dari penggunaan sharing data dalam sebuah jaringan adalah ....
- mencari kenalan menggunakan jaringan komputer
  - mencari teman ngobrol menggunakan jaringan komputer
  - mengirim surat sama saudara
  - menggunakan satu file dokumen secara bersama dalam jaringan komputer
10. Yang termasuk jaringan WAN adalah ....
- jaringan komputer dalam gedung sekolah
  - jaringan komputer dalam sebuah provinsi
  - jaringan komputer antar benua
  - jaringan komputer tanpa kabel dengan memakai satelit
11. Untuk dapat bergabung dengan internet, kita harus mempunyai akses dengan cara berlangganan ke penyedia jasa internet yang disebut dengan ....
- telepon
  - modem
  - software
  - ISP (Internet Service Provider)
12. Jenis topologi jaringan dengan sistem kontrol terpusat, semua link harus melewati pusat yang menyalurkan data tersebut ke semua simpul atau client yang dipilihnya adalah ....
- Topologi BUS
  - Topologi TokenRING
  - Topologi STAR
  - Topologi Peer-to-peer Network
13. Sekelompok protokol yang mengatur komunikasi data komputer di internet adalah ....
- Dial-up Networking
  - Dial-up Adapter
  - TCP/IP
  - salah semua
14. Perangkat hardware tambahan yang menyediakan media untuk menghubungkan komputer dalam sebuah jaringan adalah ....
- hub/switch
  - modem
  - komputer
  - kartu jaringan
15. Icon yang berfungsi untuk kembali ke halaman sebelumnya yang sudah diakses adalah ....
- 
  - 
  - 
  - 
- 1
  - 2
  - 3
  - 4
16. Internet Explorer dan Netscape Navigator merupakan program ....
- e-mail
  - chatting
  - WWW
  - Browser

17. Dipandang dari segi ilmu pengetahuan, internet adalah ....
- teknologi untuk menghilangkan kejenuhan
  - teknologi untuk bermain game
  - teknologi yang membuat fresh pikiran yang kalut
  - teknologi yang menyediakan perpustakaan besar yang menyediakan jutaan informasi
18. Prosedur yang tidak benar dalam proses penyambungan internet adalah ....
- mengisi data TCP/IP
  - menginstal modem
  - tidak perlu koneksi ke ISP
  - membuat shortcut koneksi
19. Pernyataan yang tidak benar adalah ....
- internet dapat digunakan sebagai pos surat
  - internet dapat berfungsi sebagai iklan
  - internet tidak dapat digunakan untuk mencari data
  - internet dapat berfungsi sebagai teman bicara
20. Kepanjangan dari APJII adalah ....
- Asosiasi Pedagang Jasa Internet Indonesia
  - Asosiasi Penyelenggara Jasa Internet Indonesia
  - Asosiasi Pedagang Jaringan Internet Indonesia
  - Asosiasi Penyelenggara Jaringan Internet Indonesia
21. Sistem jaringan milik pribadi di dalam sebuah gedung atau kampus yang berukuran sampai beberapa kilometer adalah ....
- LAN
  - WAN
  - MAN
  - Internet
22. Kepanjangan dari ISP adalah ....
- Informasi Service Provider
  - International Service Provider
  - Informasi Service Provider
  - Internet Service Provider
23. Icon yang berfungsi untuk mencetak dokumen ke printer adalah ....




- a
  - b
  - c
  - d
24. Sebuah kumpulan komputer, printer dan peralatan lainnya yang saling terhubung dalam satu kesatuan disebut ....
- jaringan komputer
  - jaringan internet
  - jaringan tanpa kabel
  - salah semua
25. Singkatan dari LAN adalah ....
- Local Area New York
  - Local Antena Network
  - Local Area Network
  - Local Asia Network

26. Komputer yang menyediakan fasilitas bagi komputer-komputer lain didalam jaringan adalah....
- A. server
  - B. client
  - C. workstations
  - D. salah semua
27. Cara menginstal modem ....
- A. klik Start – Display – Control Panel – Phone and Modem Options
  - B. klik Start – Setting – Modem – Phone and Modem Options
  - C. klik Start – Control Panel – Network and Internet Connections – Internet Connection
  - D. klik Start – Program – Control Panel – Phone and Modem Options
28. Berikut ini adalah yang merupakan keuntungan dari penggunaan topologi TokenRING adalah ....
- A. hemat kabel
  - B. peka kesalahan
  - C. pengembangan jaringan lebih kaku
  - D. salah semua
29. Sederetan menu yang akan membantu kita dalam proses surfing di internet adalah ....
- A. Menu Bar
  - B. Standard Button
  - C. Address bar
  - D. Status Bar

## Kelas 9 Semester II

1. Berikut ini tiga jenis layanan Electronic Mail adalah ...
  - A. POP mail
  - B. Web Based email
  - C. Email Forwarding
  - D. benar semua
2. Mailing List terdiri dari ...
  - A. mailing list dan moderated
  - B. moderated mailing list dan newsgroup
  - C. moderated mailing list dan unmoderated mailing list
  - D. moderated mailing list dan e-mail
3. Pernyataan yang paling sesuai dengan adanya internet adalah ....
  - A. akan mudah mencari kenalan
  - B. akan mudah dalam mengikuti perkembangan ilmu pengetahuan
  - C. akan mudah dalam mencetak dokumen dari internet
  - D. akan mudah dalam membuka semua jenis dokumen
4. Icon yang dipergunakan untuk menampilkan jendela pencarian yang disediakan oleh internet explorer adalah ....
  - A. Stop
  - B. Refresh
  - C. Home
  - D. Search
5. Berikut ini adalah keuntungan dari fasilitas download adalah ....
  - A. untuk mengambil gambar-gambar yang tampil dalam homepage
  - B. untuk mengambil suatu file driver atau file setup yang dikompres
  - C. a dan b salah
  - D. a dan b benar
6. Berikut ini adalah website yang dipergunakan untuk mesin pencari (search engine) adalah....
  - A. www.indosiar.com
  - B. www.depkeu.co.id
  - C. www.yahoo.com
  - D. www.bankmandiri.co.id
7. Icon yang dipergunakan untuk mengirim surat menggunakan e-mail adalah ....
  - A. Check Mail
  - B. Send
  - C. Reply
  - D. Attach Files
8. Protokol yang dipergunakan untuk menentukan web browser dalam meminta/mengambil suatu dokumen, dan menentukan server dalam menyediakan dokumen yang diminta oleh web browser adalah ....
  - A. FTP
  - B. URL
  - C. HTTP
  - D. HTML
9. Berikut ini adalah nama domain untuk pendidikan adalah ....
  - A. com
  - B. net
  - C. edu
  - D. org
10. Di bawah ini spesifikasi dalam search engine yang benar adalah ....
  - A. jika belum tercantum dalam kategori maka kita tekan sembarang kategori
  - B. jika sudah tercantum kategori maka kita memilih kategori yang sesuai
  - C. kategori yang sama tidak bisa digunakan lagi dalam internet
  - D. kategori yang dicari dimasukkan dalam kolom address
11. Sederetan menu yang akan membantu kita dalam proses surfing di internet adalah ...
  - A. Standard Button
  - B. Address Bar

- C. Menu Bar  
D. Status Bar
12. Suatu cara berbelanja atau berdagang secara online atau direct selling yang memanfaatkan fasilitas internet di mana terdapat website yang dapat menyediakan layanan "get and deliver" adalah ...  
A. e-mail  
B. telnet  
C. website  
D. e-commerce
13. Perhatikan pernyataan di bawah ini !  
1. Web dapat menampilkan teks, gambar dan file multimedia  
2. Web memiliki jenis-jenis dokumen web yang paling umum  
3. Web merupakan fasilitas yang paling favorit dibandingkan dengan yang program lainnya  
4. Web mudah dijelajahi oleh si pemakai
- Yang merupakan fungsi dari Web adalah nomor ....  
A. 1 dan 2  
B. 2 dan 3  
C. 3 dan 4  
D. 1 dan 3
14. Nama domain com berfungsi untuk menunjukan ....  
A. nama jaringan server  
B. nama komersial  
C. nama negara indonesia  
D. nama militer
15. Search engine www.google.co.id, www.yahoo.com merupakan web yang menyediakan fasilitas ...  
A. Upload  
B. Search engine  
C. Download  
D. Electronic Mail
16. Singkatan dari URL adalah ...  
A. Uniform Resource Locator  
B. Uniform Resources Locator  
C. Uniform Resort Location  
D. Uniform Resource Location
17. Suatu bahasa yang menggunakan tanda-tanda tertentu (disebut sebagai Tag) untuk menyatakan kode-kode yang harus ditafsirkan oleh browser agar halaman tersebut dapat ditampilkan secara benar adalah ...  
A. URL  
B. WWW  
C. HTML  
D. HTTP
18. Sekelompok komputer yang terhubung dan bisa saling berbagai sumber daya (seperti printer, atau modem) dan data disebut ....  
A. internet  
B. intranet  
C. network  
D. homepage
19. Icon berikut berfungsi untuk ...  
  
A. menghentikan proses penampilan situs web  
B. mengulangi kembali proses penampilan situs web  
C. menampilkan jendela pencarian  
D. kembali ke halaman awal

20. Berikut ini program-program paling populer yang digunakan pada fasilitas Electronic Mail adalah ...
- Netscape Messenger
  - Eudora
  - Microsoft Outlook
  - benar semua
21. Berikut ini adalah layanan di dalam internet adalah ...
- Word Wide Web (WWW)
  - Electronic Mail
  - Chatting
  - benar semua
22. Perhatikan pernyataan berikut !
- kegiatan pengiriman data dari komputer lokal ke komputer lainnya dalam sebuah network
  - kegiatan menyalin data dari komputer lokal ke komputer lainnya dalam sebuah network
  - kecepatan aliran data dari komputer lokal ke komputer lainnya dalam sebuah network
- Pernyataan yang benar tentang pengertian upload adalah ....
- nomor 3
  - nomor 2
  - nomor 1
  - salah semua
23. Prosedur yang benar dalam penyimpanan informasi dari internet adalah ...
- klik menu File, klik submenu Paste
  - klik menu File, klik submenu Copy
  - klik menu Edit, klik submenu Save
  - klik menu File, klik submenu Save As
24. Tombol perintah yang dipergunakan untuk membalas surat menggunakan e-mail adalah ....
- Check Mail
  - Send
  - Reply
  - Attach Files
25. Singkatan dari WWW adalah ...
- World Wide Web
  - Work Wide Web
  - Work Wind Web
  - World Wind Web
26. Berikut ini yang bukan keuntungan dari menggunakan internet adalah ...
- mempermudah dalam mencari teman ngobrol
  - mempermudah dalam membuka berbagai jenis dokumen
  - akan membuat malas belajar bagi siswa
  - mempermudah dalam mengambil gambar yang tidak ada di komputer
27. Perhatikan pernyataan di bawah ini!
- ketikkan alamat web yang kita ingin buka pada Address Bar
  - klik menu Start
  - tekan tombol enter atau go pada status bar
  - klik Internet explorer
  - pilih All Program
- Dari pernyataan di atas langkah yang benar untuk mengaktifkan web browser adalah ....
- 1 – 2 – 3 – 4 – 5
  - 2 – 3 – 4 – 5 – 1
  - 2 – 5 – 4 – 1 – 3
  - 5 – 4 – 3 – 2 – 1
28. Domain Name System (DNS) berfungsi untuk ....
- mempermudah penggunaan web server pada komputer di internet
  - mengakses server di internet
  - menampilkan situs-situs dalam web
  - menampilkan gambar dalam web

29. Suatu alamat yang dipakai untuk menentukan lokasi informasi yang diminta oleh browser adalah ...
- A. HTML
  - B. WWW
  - C. URL
  - D. HTTP
30. Di bawah ini fungsi dari browser yang benar, kecuali ....
- A. mengirim elektronik mail
  - B. membuat tampilan indah
  - C. mengubah bahasa protokol
  - D. menerima elektronik mail